

Шифр 7

Ставропольский край
школьный этап всероссийской олимпиады школьников
2024/25 учебного года

Работа по ОБЗР
ученика (цы) 6А класса
муниципального бюджетного общеобразовательного учреждения
«Средняя общеобразовательная школа № 23 с. Новозаведенного»
Георгиевского муниципального округа

Теслюченко Степан Сергеевич
(ФИО полностью)

1 ОБЗ

Наставник Корчагин Игорь Александрович
(ФИО полностью)

14 октября 2024 года
дата


Максимальный балл за работу – 200.

Тестовые задания

Определите один правильный ответ.

За правильный ответ начисляется 5 баллов.

1. В соответствии с ПДД РФ участником дорожного движения пешеход
- + ✓ • является всегда
 - является только в возрасте старше 14 лет
 - не является только в возрасте младше 7 лет
 - не является
2. Если гроза застала у водоёма, рекомендуется отойти от него не менее чем на
- 20 м
 - 100 м
 - ✓ • 50 м
 - 80 м
3. Спасательные круги обеспечивают поддержку человека в воде не менее
- 6 ч
 - ✓ • 12 ч
 - 24 ч
 - 10 ч
4. Система, объединяющая органы управления, силы и средства федеральных органов исполнительной власти, органов исполнительной власти субъектов Российской Федерации, органов местного самоуправления, организаций, в полномочия которых входит решение вопросов по защите населения и территорий от чрезвычайных ситуаций, в том числе по обеспечению безопасности людей на водных объектах – это
- + ✓ • РСЧС
 - ГО
 - ОКСИОН
 - ГУ НЦУКС

5. Определите опасное геологическое явление (процесс).
- + ✓ • курум
 - затор
 - зажор
 - сель
6. В Москве жёлтый контейнер типа колокол для раздельного сбора мусора предназначен для
- бумаги
 - пластика
 - ✓ • картона
 - стекла
7. Определите минимальное рекомендуемое расстояние эвакуации при обнаружении предмета, подозрительного на взрывное устройство (жестяная банка).
- 55 м
 - 60 м
 - 45 м
 - ✓ • 50 м
- 
8. Какие пищевые вещества являются основным строительным материалом в организме человека?
- + ✓ • белки
 - жиры
 - углеводы
 - минеральные вещества
9. Какая информация сообщается в первую очередь при вызове скорой медицинской помощи?
- + ✓ • где и что случилось
 - количество пострадавших
 - возраст, пол пострадавших
 - какая помощь оказывается
10. Даны два утверждения:
1. Бинтовая повязка накладывается на конечности, как правило, слева направо по часовой стрелке (по отношению к бинтующему).
 2. Бинтовая повязка накладывается на конечности, как правило, от периферии к центру.
- Какие из утверждений являются верными?
- ✓ • верно только первое
 - верно только второе
 - оба верны
 - оба неверны

Определите два правильных ответа.

За каждый правильный ответ начисляется 5 баллов.

0 баллов выставляется за неправильный ответ, а также, если участником отмечено более двух ответов (в том числе правильные).

11. Какие виды костров рекомендуют использовать для обогрева и ночёвки?

- «Нодья»
- «Колодец»
- «Поленизский»
- + ✓ • «Шалаш»
- «Пушка»

12. Горение газа на плите в норме, когда пламя имеет

- оранжевый цвет
- жёлтый цвет
- красно-оранжевый цвет
- + ✓ • голубой цвет
- фиолетовый цвет

13. К опасным факторам пожара, воздействующим на людей и имущество, относятся

- + ✓ • пламя и искры
- воздействие огнетушащих веществ
- опасные факторы взрыва, произошедшего вследствие пожара
- вынос высокого напряжения на токопроводящие части оборудования
- снижение видимости в дыму

14. Определите дату создания ГО РФ.

- + ✓ • 1993 года
- 1990 года
- 27 декабря
- 13 ноября
- 8 мая

15. Определите признаки приближения ненастья.

- + ✓ • облачность усиливается, кучевые облака к вечеру не исчезают, а прибавляются
- мелкий непрерывный дождь
- у земли туман, роса
- и ночью, и днём умеренно тепло
- + ✓ • венцы вокруг Луны уменьшаются

16. При поездке в лифте взрослых с детьми

- первыми в кабину лифта должны входить взрослые, а затем дети
- • при выходе первыми выходят взрослые
- в кабину лифта взрослые и дети входят одновременно
- + ✓ • первыми в кабину лифта должны входить дети, а затем взрослые
- при выходе первыми выходят дети

17. Террористическая деятельность – деятельность, включающая в себя

- + ✓ • подстрекательство к террористическому акту
- + ✓ • пропаганду идей терроризма
- публичное оправдание терроризма
- возбуждение социальной, расовой, национальной или религиозной розни
- использование нацистской атрибутики или символики

18. Какие упражнения рекомендуется использовать для утренней гимнастики?

- силовые упражнения
- дыхательные упражнения
- + ✓ • упражнения на гибкость
- упражнения на выносливость
- упражнения на силовую выносливость

19. По каким номерам можно вызвать скорую медицинскую помощь?

- 101
- 102
- + ✓ • 103
- 104
- 112

20. Во время игры в волейбол одному из участников мяч угодил в лицо, возникло носовое кровотечение. Для оказания первой помощи пострадавшему рекомендуется









- запрокинуть голову назад
- наклонить голову вперёд
- приложить к переносице тепло
- + ✓ • приложить к переносице холод
- смочить марлевые салфетки перекисью водорода и ввести турунды в носовые ходы

Максимальный балл за тестовые задания – 150.

Теоретические задания

21. Один из способов избежать опасности встречи с дикими зверями – постараться не встречаться с ними. В этом нам может помочь знание их следов.

Установите соответствие между следом и животным, которому принадлежит этот след.

-205

22. Кровотечение – это истечение крови из кровеносных сосудов. Вид кровотечения определяется типом повреждённого сосуда.

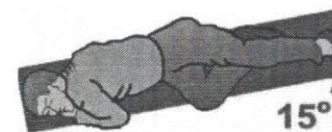
Установите соответствие между видом кровотечения и его признаками.

Вид кровотечения	Признаки кровотечения
Артериальное	<p>Кровоточит диффузно вся поверхность раны. После удаления излившейся крови поверхность вновь покрывается кровью. Как правило, эти кровотечения не представляют угрозы для жизни, при нормальной свёртываемости крови, они останавливаются самостоятельно</p> <p>Кровь алого цвета, пульсирует, фонтанирует. При ранении крупных сосудов данного вида происходит большая потеря крови за короткое время</p> <p>Кровь тёмно-красного цвета, вытекает равномерно («ручьём»). При ранении сосудов шеи может отмечаться прерывистое истечение крови, связанное с дыханием</p>
Венозное	
Капиллярное	

5 5

23. Оптимальное положение тела пострадавшего при кровотечении зависит от его состояния.

При каком состоянии пострадавшему придают оптимальное положение, изображённое на рисунке?



- пострадавший с ранением головы справа, в сознании
- пострадавший с ранением грудной клетки слева, в сознании
- пострадавший с ранением плеча, в сознании, пульс на запястье отсутствует
- травматический шок (острая кровопотеря), пострадавший без сознания

+ 56

24. Во время автономного существования в природе необходимо знать и правильно использовать узлы.

Определите назначение изображённых узлов.

0	вспомогательный узел		2
2	схватывающий узел		
2	для связывания верёвок одинакового диаметра		
0	для закрепления верёвки к опоре/карабину		

Максимальный балл за работу – 200.